





V naší škole je 6 oken. Žáci dali do každého okna dvě květiny v květináčích. Kolik květin žáci dali do oken celkem?



Máme 6 oken a do každého okna jsme dali 2 květiny.



6 krát  je 12  → 6 krát 2 je 12 → $6 \cdot 2 = 12$

Šest krát dva rovná se dvanáct.



Násobením jsme zjistili, že žáci dali do oken celkem 12 květin.

1 Přečti, znázorni a úlohu vyřeš.

V naší škole jsou 4 okna. Žáci přinesli do každého okna dvě květiny v květináčích. Kolik květin žáci přinesli celkem?

počet oken: _____

květin v jednom okně: _____

výpočet sčítáním: _____

výpočet násobením: _____

